

Bản tóm tắt [Xem phản hồi đầy đủ](#)

Họ và Tên

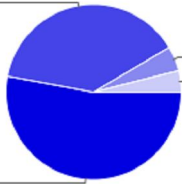
Nguyễn Ngọc Tú nguyễn thị loan Nguyễn Thị Huỳnh Như Ngô Thị Thanh Phương Nguyễn Thị Thúy Quỳnh NGUYỄN THỊ YẾN LINH Nguyễn Thị Kim Thoa Nguyễn Thị Bích Hiệp Nguyễn Ngọc Cẩm Duyên Trần Mai Quyền Mạnh Thế Cường n ...

Mã số sinh viên

1054062326 1054022111 954052058 954030526 954030569 1054060145 854030870 1054010166 1054062048 954030563 1054022022 954030263 954030183

Mã số dự thi

2012CPV02 [186]



2012CPV01

255

53%

2012CPV02

186

39%

2012CPV03

22

5%

2012CPV04

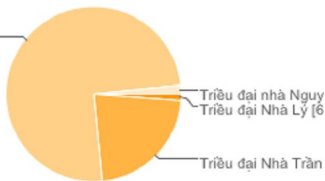
19

4%

2012CPV01 [255]

Câu 1: Tiền giấy được sử dụng đầu tiên ở Việt Nam vào triều đại nào?

u đại Nhà Hồ [361]



Triều đại Nhà Lý

6

1%

Triều đại Nhà Trần

107

22%

Triều đại Nhà Hồ

361

75%

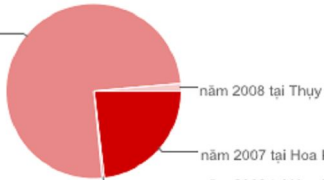
Triều đại nhà Nguyễn

8

2%

Câu 2: Nước Cộng hòa XHCN Việt Nam gia nhập WTO năm nào? tại đâu? và là thành viên thứ mấy?

ry Sĩ, thứ 150 [362]



năm 2007 tại Hoa Kỳ, thứ 150

111

23%

năm 2008 tại Hoa Kỳ, thứ 151

2

0%

năm 2007 tại Thụy Sĩ, thứ 150

362

75%

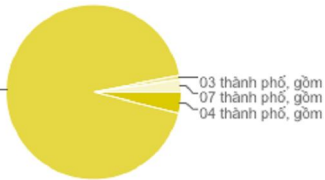
năm 2008 tại Thụy Sĩ, thứ 151

7

1%

Câu 3: Hiện nay, Nước ta có bao nhiêu thành phố trực thuộc trung ương và tên các thành phố?

x, Hải Phòng. [448]



04 thành phố, gồm Hà Nội, Tp. Hồ Chí Minh, Đà Nẵng, Cần Thơ.

19 4%

05 thành phố, gồm Hà Nội, Tp. Hồ Chí Minh, Đà Nẵng, Cần Thơ, Hải Phòng.

448 93%

03 thành phố, gồm Hà Nội, Tp. Hồ Chí Minh, Đà Nẵng

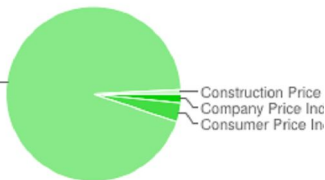
4 1%

07 thành phố, gồm Hà Nội, Tp. Hồ Chí Minh, Đà Nẵng, Cần Thơ, Hải Phòng, Đà Lạt, Nha Trang.

11 2%

Câu 4: Chỉ số giá tiêu dùng được gọi tắt là CPI, vậy CPI là viết tắt của những từ Tiếng Anh nào?

er Price Index [453]



Company Price Index

8

2%

Consumer Price Index

17

4%

Consumer Price Index

453

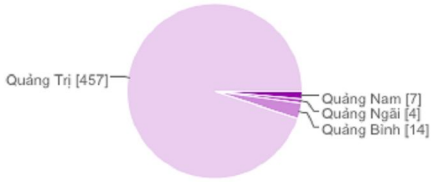
94%

Construction Price Index

4

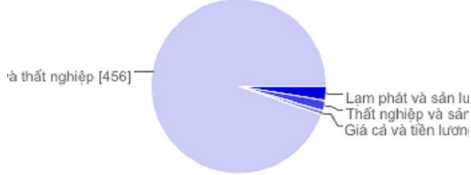
1%

Câu 5: Khu kinh tế cửa khẩu Lao Bảo thuộc tỉnh nào?



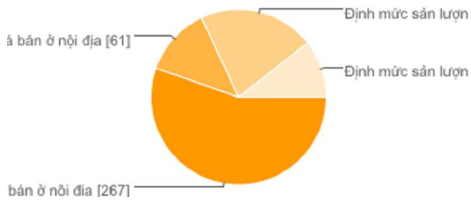
Quảng Nam	7	1%
Quảng Ngãi	4	1%
Quảng Bình	14	3%
Quảng Trị	457	95%

Câu 6: Đường cong Phillips chỉ ra sự đánh đổi giữa:



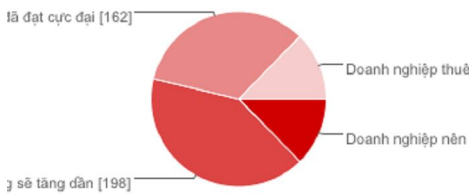
Lạm phát và sản lượng	13	3%
Thất nghiệp và sản lượng	9	2%
Giá cả và tiền lương	4	1%
Lạm phát và thất nghiệp	456	95%

Câu 7: Giả sử chi phí biên để sản xuất thêm một tấn thép ở Việt Nam và ở nước ngoài là như nhau và thép ở Việt Nam được sản xuất để đáp ứng nhu cầu nội địa và xuất khẩu. Nếu ở Việt Nam, độ co giãn của cầu nội địa đối với giá cao hơn so với độ co giãn của cầu xuất khẩu (XK), các doanh nghiệp sản xuất thép ở Việt Nam nên:



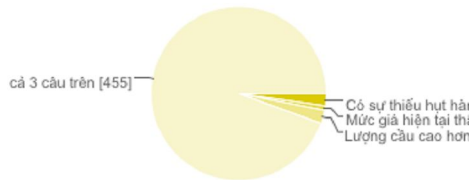
Định mức sản lượng	267	55%
Định mức sản lượng thép dành cho XK thấp hơn giá bán ở nội địa	61	13%
Định mức sản lượng thép dành cho XK nhiều hơn ở nội địa	103	21%
Định mức sản lượng thép dành cho XK ít hơn ở nội địa	51	11%

Câu 8: Trong ngắn hạn, tại mức sản lượng 100 sản phẩm doanh nghiệp có năng suất biên của lao động đạt cực đại. Các yếu tố khác không đổi. Câu phát biểu nào sau đây KHÔNG ĐÚNG



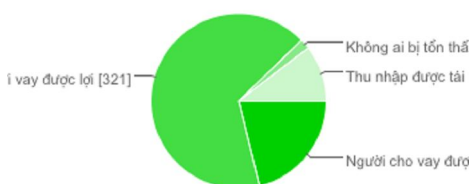
Doanh nghiệp nên thuê thêm lao động vì sẽ làm tăng tổng sản lượng	61	13%
Doanh nghiệp nên thuê thêm lao động vì năng suất trung bình của lao động sẽ tăng dần	198	41%
Doanh nghiệp không nên thuê thêm lao động vì năng suất biên của lao động đã đạt cực đại	162	34%
Doanh nghiệp thuê thêm lao động thì sẽ làm năng suất biên của lao động giảm	61	13%

Câu 9: Giá của hàng hóa sẽ tăng khi



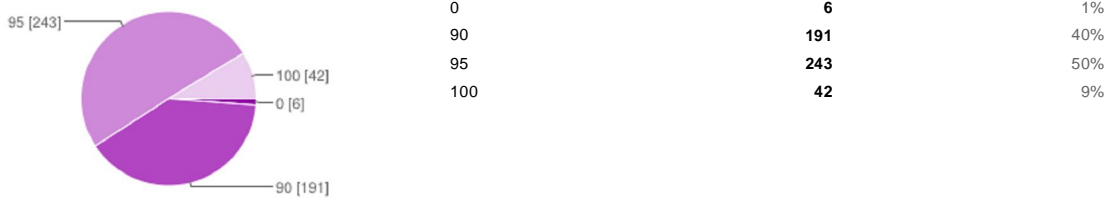
Có sự thiếu hụt hàng hóa ở mức giá hiện tại	11	2%
Mức giá hiện tại thấp hơn giá cân bằng	4	1%
Lượng cầu cao hơn lượng cung	12	2%
Tất cả 3 câu trên	455	94%

Câu 10: Mức lãi suất danh nghĩa là 13%, tỷ lệ lạm phát kỳ vọng là 10%, nhưng tỷ lệ lạm phát thực tế là 15%. Khi đó:

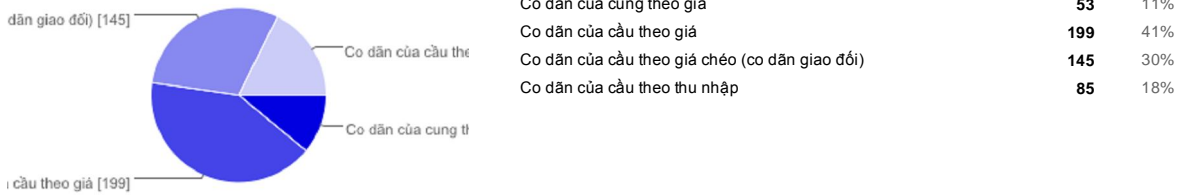


Người cho vay được lợi	102	21%
Người đi vay được lợi	321	67%
Không ai bị tổn thất	9	2%
Thu nhập được tái phân phối lại từ người đi vay sang người cho vay	50	10%

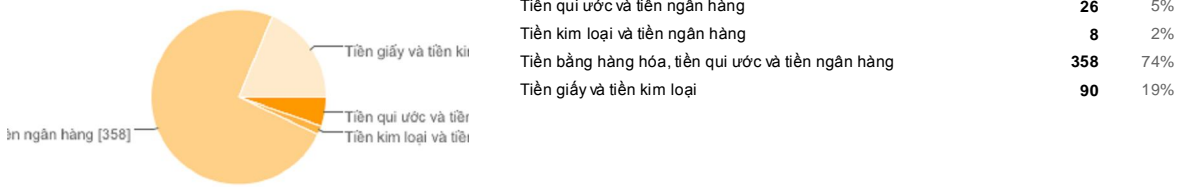
Câu 11. Doanh nghiệp (DN) hoạt động trong thị trường độc quyền hoàn toàn có đường cầu $Q=200-2P$, $TC=5Q$, $MR=100-Q$. Nếu chính phủ đánh thuế là 5 trên mỗi đơn vị hàng hóa bán ra, mức sản lượng tối đa hóa lợi nhuận của DN sẽ là:



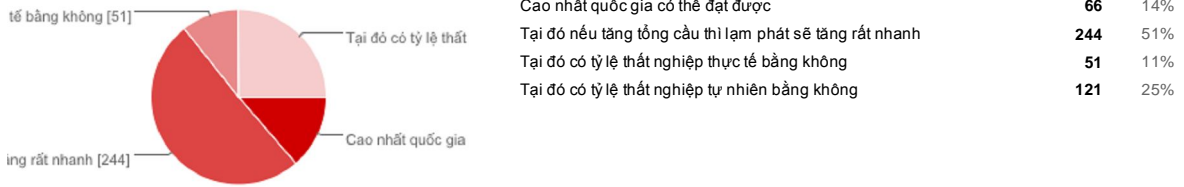
Câu 12. Trong thị trường cạnh tranh độc quyền, khi quyết định chiến lược giá, doanh nghiệp cần phải điều tra để nắm được thông tin về:



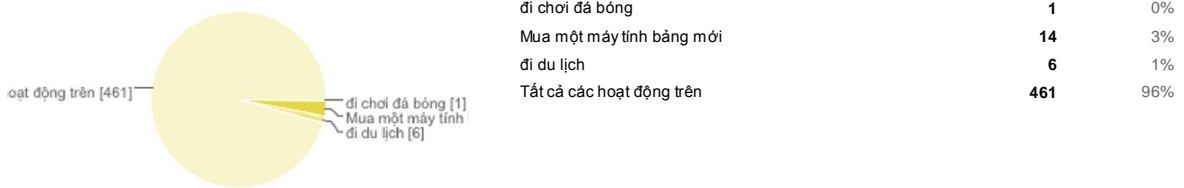
Câu 13. Hình thái của tiền bao gồm:



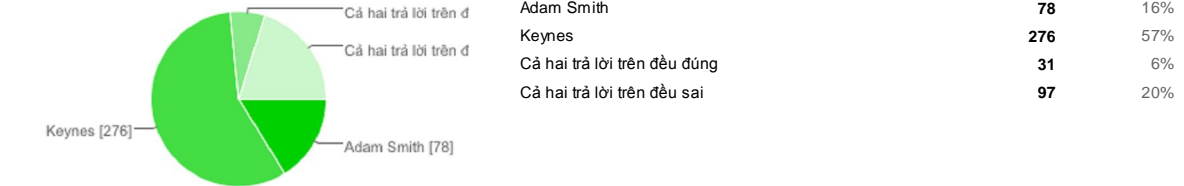
Câu 14. Mức sản lượng tiềm năng là mức sản lượng:



Câu 15. Hoạt động nào dưới đây bao hàm sự đánh đổi?

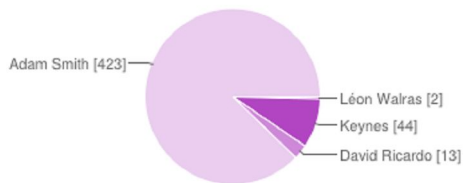


Câu 16. Quan điểm "không nhất thiết phải theo đuổi mục tiêu cân bằng ngân sách" là của



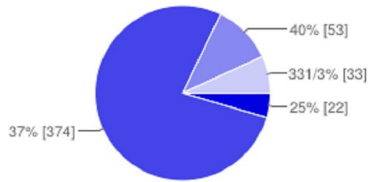
Câu 17. Ai được xem là cha đẻ của ngành kinh tế học

Léon Walras	2	0%
-------------	---	----



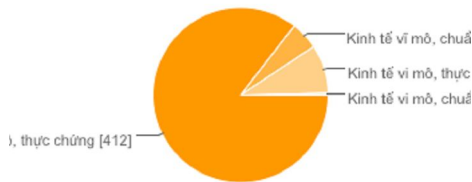
Keynes	44	9%
David Ricardo	13	3%
Adam Smith	423	88%

Câu 18. Nếu giảm giá hai lần liên tục 30% và 10% một món hàng sẽ tương tự với một lần giảm giá duy nhất theo tỷ lệ là:



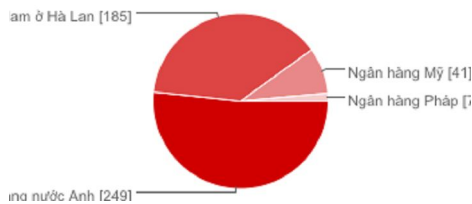
25%	22	5%
37%	374	78%
40%	53	11%
331/3%	33	7%

Câu 19. "Thâm hụt ngân sách của Hoa Kỳ trong sáu tháng đầu năm 2009 chiếm 953 tỷ USD, tăng 3 lần so với cùng kỳ 2008", phát biểu này thuộc:



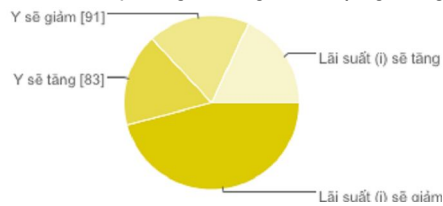
Kinh tế vĩ mô, thực chứng	412	85%
Kinh tế vĩ mô, chuẩn tắc	25	5%
Kinh tế vĩ mô, thực chứng	43	9%
Kinh tế vĩ mô, chuẩn tắc	2	0%

Câu 20. Ngân hàng đầu tiên đặt nền móng cho ngân hàng hiện đại là:



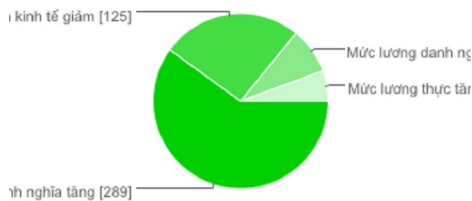
Ngân hàng nước Anh	249	52%
Ngân hàng Amsterdam ở Hà Lan	185	38%
Ngân hàng Mỹ	41	9%
Ngân hàng Pháp	7	1%

Câu 21. Nếu chính phủ tăng thuế đồng thời với việc ngân hàng trung ương mua trái phiếu trên thị trường, điều gì sẽ xảy ra:



Lãi suất (i) sẽ giảm	221	46%
Y sẽ tăng	83	17%
Y sẽ giảm	91	19%
Lãi suất (i) sẽ tăng	87	18%

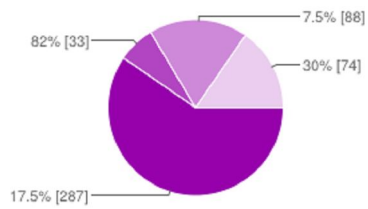
Câu 22. Việc mở rộng tiền tệ trong ngắn hạn sẽ khiến cho:



Mức lương danh nghĩa tăng	289	60%
Mức giá chung của nền kinh tế giảm	125	26%
Mức lương danh nghĩa giảm	41	9%
Mức lương thực tăng	27	6%

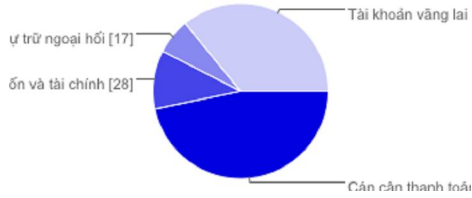
Câu 23. Tại một xí nghiệp sản xuất thú nhồi bông, nếu tuần đầu tiên của tháng bán được 1/8 số hàng trong kho, tuần kế tiếp bán được 4/5 số hàng còn lại. Hỏi số hàng tồn kho còn lại bao nhiêu phần trăm?

17.5%	287	60%
-------	-----	-----



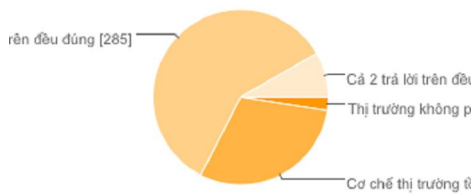
82%	33	7%
7.5%	88	18%
30%	74	15%

Câu 24. Chọn câu phát biểu đúng:



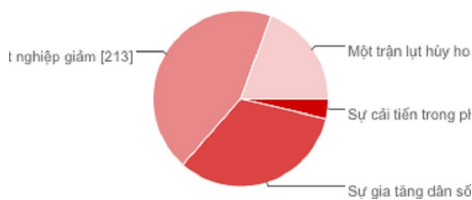
Cán cân thanh toán = tài khoản vãng lai + tài khoản vốn	121	25%
Tài trợ chính thức = tài khoản vãng lai + tài khoản vốn và tài chính	28	6%
Tài khoản vãng lai = cán cân thương mại + dự trữ ngoại hối	17	4%
Tài khoản vãng lai + tài khoản vốn và tài chính + tài trợ chính thức = 0	93	19%

Câu 25. Chính phủ đôi khi can thiệp vào thị trường vì:



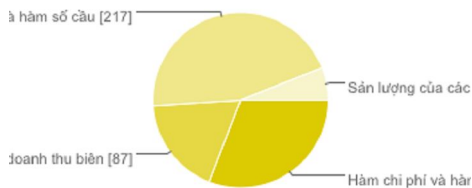
Thị trường không phải là phương thức hoàn hảo để tổ chức các hoạt động kinh tế	12	2%
Cơ chế thị trường tồn tại những thất bại như quyền lực thị trường, hàng hóa công, ngoại tác...	145	30%
Cả 2 trả lời trên đều đúng	285	59%
Cả 2 trả lời trên đều sai	40	8%

Câu 26. Điều nào sau đây KHÔNG gây ra sự dịch chuyển đường giới hạn khả năng sản xuất:



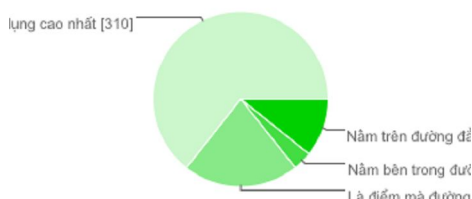
Sự cải tiến trong phương pháp sản xuất	18	4%
Sự gia tăng dân số của một nước	158	33%
Thất nghiệp giảm	213	44%
Một trận lụt hủy hoại đất nông nghiệp	93	19%

Câu 27. Để tính toán sao cho lợi nhuận tối đa, nhà sản xuất ít nhất cần có những thông tin sau:



Hàm chi phí và hàm sản xuất	149	31%
Hàm số cầu và hàm doanh thu biên	87	18%
Hàm chi phí và hàm số cầu	217	45%
Sản lượng của các đối thủ cạnh tranh và cơ cấu giá của họ	29	6%

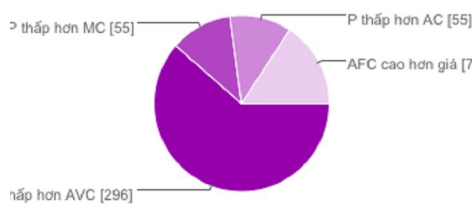
Câu 28. Điểm tiêu dùng tối ưu:



Nằm trên đường đẳng dụng (đẳng ích) cao nhất trong bản đồ sở thích của người tiêu dùng	52	11%
Nằm bên trong đường ngân sách và ở trên một đường đẳng dụng	17	4%
Là điểm mà đường ngân sách cắt đường đẳng dụng	103	21%
Nằm trên đường ngân sách và tiếp xúc với đường đẳng dụng cao nhất	310	64%

Câu 29. Trong trường hợp nào doanh nghiệp cạnh tranh hoàn toàn sẽ đóng cửa?

P thấp hơn AVC	296	61%
P thấp hơn MC	55	11%
P thấp hơn AC	55	11%

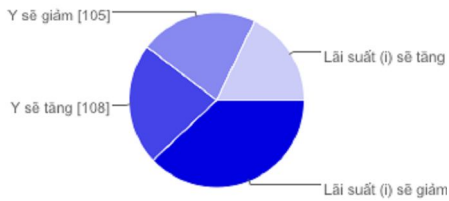


AFC cao hơn giá

76

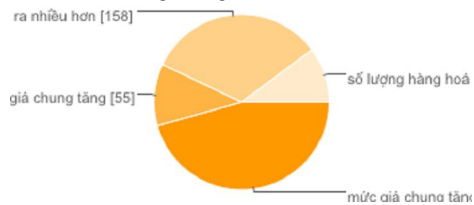
16%

Câu 30. Một sinh viên đã tranh luận trong buổi học kinh tế vi mô rằng: “Nền kinh tế Mỹ lâm vào khủng hoảng là do người dân chi tiêu quá mức và nền kinh tế thiếu tiền do các nước khác đã dùng đồng đôla Mỹ như là một loại tài sản dự trữ. Vì vậy, chính phủ hãy áp dụng kết hợp việc tăng thuế đồng thời với việc mua trái phiếu để có thể thoát khỏi tình trạng này”. Kết quả chắc chắn cuối cùng của chính sách kết hợp này là:



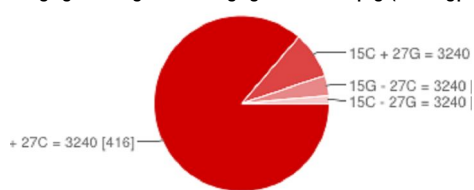
Lãi suất (i) sẽ giảm	183	38%
Y sẽ tăng	108	22%
Y sẽ giảm	105	22%
Lãi suất (i) sẽ tăng	86	18%

Câu 31. GDP danh nghĩa tăng cho biết:



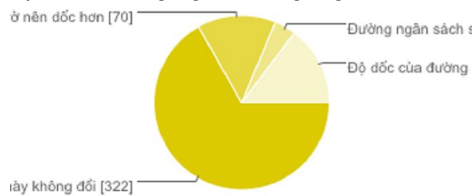
mức giá chung tăng hoặc số lượng hàng hoá và dịch vụ được sản xuất ra nhiều hơn	220	46%
mức giá chung tăng	55	11%
mức giá chung tăng và số lượng hàng hoá và dịch vụ được sản xuất ra nhiều hơn	158	33%
số lượng hàng hoá được sản xuất ra nhiều hơn	49	10%

Câu 32. Một người có thu nhập hàng tháng là 3,24 triệu đồng, để mua 2 loại hàng hóa là gạo và cá. Giá sử gạo là 15 ngàn đồng/kg, giá cá là 27 ngàn đồng/kg. Phương trình đường ngân sách có dạng: (Với G: gạo; C là cá)



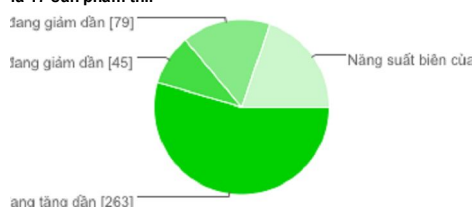
$15G + 27C = 3240$	416	86%
$15C + 27G = 3240$	41	9%
$15G - 27C = 3240$	18	4%
$15C - 27G = 3240$	7	1%

Câu 33. Một nông dân trồng lúa mỗi tháng có thu nhập là 1 triệu đồng. Người này chỉ chi tiêu cho việc mua thịt và mua kem chống nắng để ra đồng. Giá của thịt là 95,000 VND/kg và giá kem chống nắng là 65,000 VND/ống. Giá sử giá thịt và kem chống nắng tăng lên gấp đôi so với giá ban đầu.



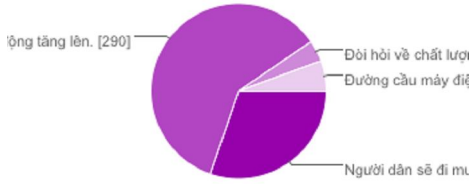
Độ dốc đường ngân sách của người nông dân này không đổi	322	67%
Đường ngân sách sẽ trở nên dốc hơn	70	15%
Đường ngân sách sẽ trở nên ít dốc hơn	19	4%
Độ dốc của đường ngân sách sẽ thay đổi	71	15%

Câu 34. Giá sử năng suất lao động trung bình của sáu công nhân tại một xưởng sản xuất là 15 sản phẩm. Nếu năng suất biên của người công nhân thứ bảy là 17 sản phẩm thì:



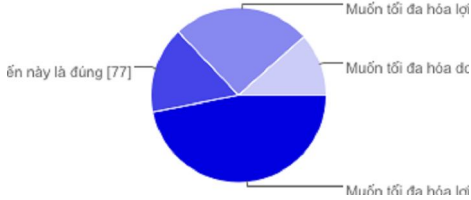
Năng suất lao động trung bình tại xưởng sản xuất này đang tăng dần	263	55%
Năng suất lao động trung bình đang giảm dần	45	9%
Năng suất biên của lao động tại xưởng sản xuất này đang giảm dần	79	16%
Năng suất biên của lao động đang tăng dần	95	20%

Câu 35. Nếu giá của điện thoại di động giảm, khi đó:



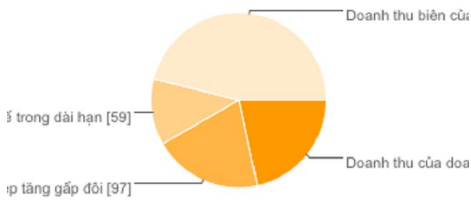
Người dân sẽ đi mua di động nhiều làm cầu về máy điện thoại di động tăng lên	146	30%
Người dân sẽ đi mua di động nhiều làm số lượng cầu về máy điện thoại di động tăng lên.	290	60%
Đòi hỏi về chất lượng máy điện thoại di động tăng lên	19	4%
Đường cầu máy điện thoại di động dịch chuyển sang trái	27	6%

Câu 36. Một giám đốc doanh nghiệp đề nghị với phòng sản xuất và phòng kinh doanh hãy phối hợp sản xuất và bán hàng tại mức sản lượng sao cho doanh thu tăng thêm bằng chi phí tăng thêm. Mục đích lời đề nghị của giám đốc là:



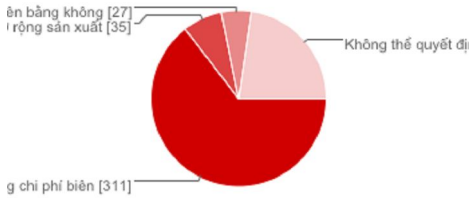
Muốn tối đa hóa lợi nhuận và ý kiến này là đúng	226	47%
Muốn tối đa hóa doanh thu và ý kiến này là đúng	77	16%
Muốn tối đa hóa lợi nhuận và ý kiến này là sai	123	26%
Muốn tối đa hóa doanh thu và ý kiến này là sai	56	12%

Câu 37. Giả sử một doanh nghiệp hoạt động trong thị trường cạnh tranh hoàn hảo, nếu giá trên thị trường tăng gấp đôi thì:



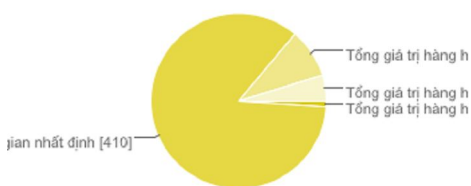
Doanh thu của doanh nghiệp tăng gấp đôi	104	22%
Doanh thu của doanh nghiệp tăng gấp đôi	97	20%
Doanh nghiệp kiếm được lợi nhuận kinh tế trong dài hạn	59	12%
Doanh thu biên của doanh nghiệp tăng gấp đôi	222	46%

Câu 38. An là giám đốc tại một công ty, nhận thấy mức sản lượng hiện tại có doanh thu biên là \$145 và chi phí biên là \$182, An sẽ làm gì nếu mục tiêu là tối đa hóa lợi nhuận?



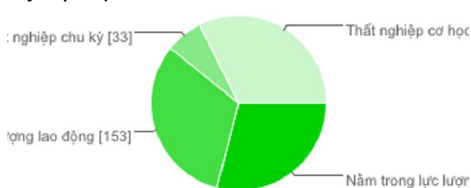
Giảm sản lượng cho tới khi doanh thu biên bằng chi phí biên	311	65%
Mở rộng sản xuất	35	7%
Giảm sản lượng cho tới khi doanh thu biên bằng không	27	6%
Không thể quyết định điều gì nếu không có thêm thông tin về định phí trung bình	109	23%

Câu 39. Tổng sản phẩm quốc nội (GDP) là:



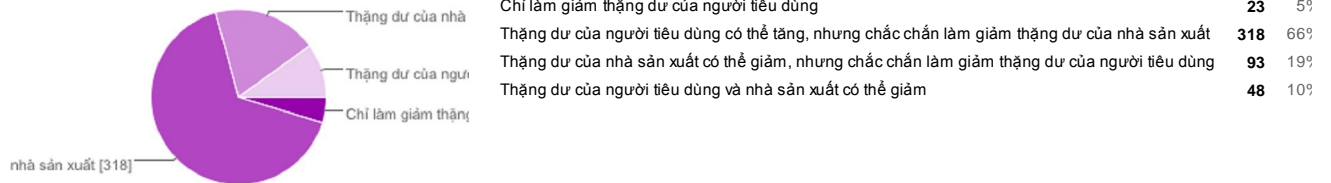
Tổng giá trị hàng hoá và dịch vụ được sản xuất ra trong một thời kỳ nhất định	410
Tổng giá trị hàng hoá và dịch vụ cuối cùng được tạo ra trong lãnh thổ của một nước trong một khoảng thời gian nhất định	
Tổng giá trị hàng hoá và dịch vụ cuối cùng do công dân một nước tạo ra trong một khoảng thời gian nhất định	
Tổng giá trị hàng hoá và dịch vụ tạo ra trên lãnh thổ của một nước trong một thời kỳ nhất định	

Câu 40. Một học sinh tốt nghiệp cấp III đi tìm việc nhưng không thể tìm được công việc phù hợp trong thời gian dài và quyết định không tìm việc nữa. Người này được xếp vào nhóm:

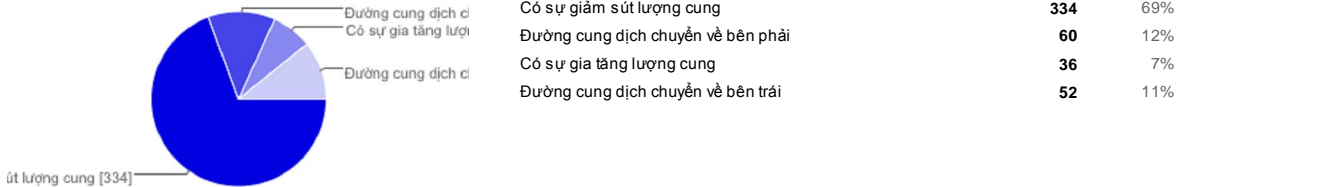


Nằm trong lực lượng lao động	140	29%
Không nằm trong lực lượng lao động	153	32%
Thất nghiệp chu kỳ	33	7%
Thất nghiệp cơ học	156	32%

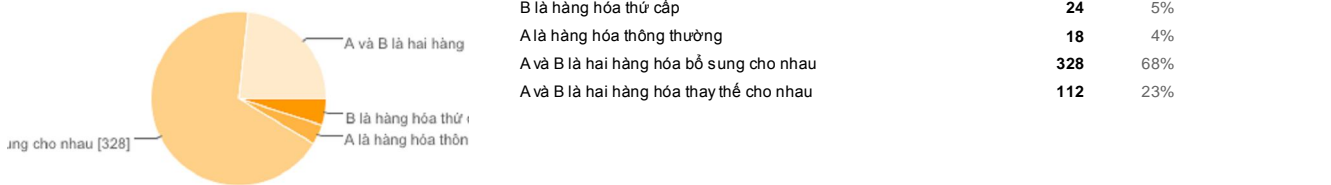
Câu 41. Trong khi vận hành nền kinh tế, chính phủ đôi khi can thiệp vào thị trường bằng một số các biện pháp hành chính theo hướng hoặc có lợi cho người tiêu dùng, hoặc có lợi cho nhà sản xuất nhằm điều chỉnh một số thất bại của thị trường. Hãy chọn câu phát biểu đúng nhất trong các câu dưới đây: "Một mức giá trần hiệu quả sẽ:



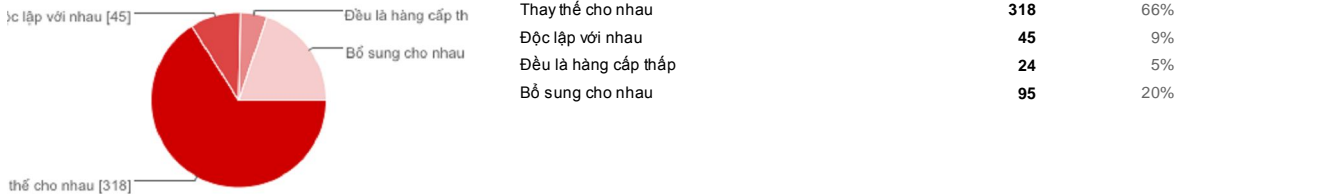
Câu 42. Sự di chuyển dọc xuống trên đường cung cho thấy khi giá hàng hóa giảm:



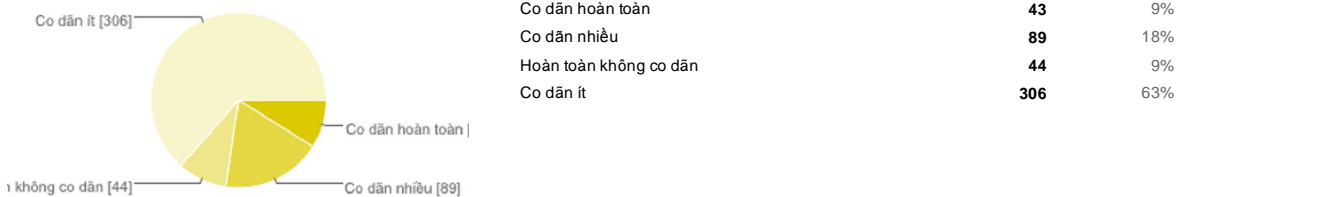
Câu 43. Giá của hàng hóa A tăng, do đó đường cầu của hàng hóa B dời sang trái, suy ra:



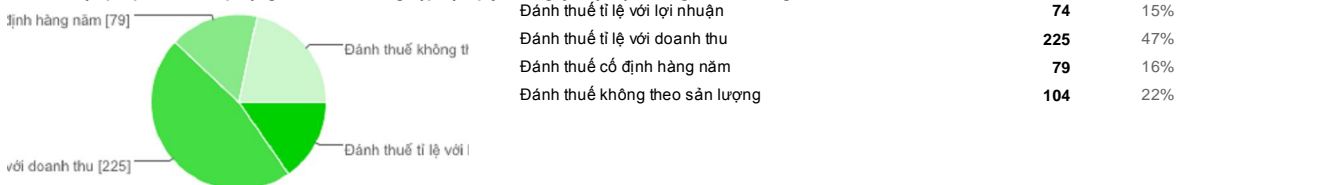
Câu 44. Nếu hệ số co giãn chéo của của hai hàng hóa là số dương, chúng ta nói hai hàng hóa đó:



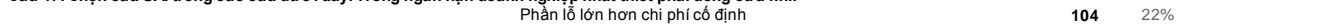
Câu 45. Nếu phần trăm thay đổi của giá lớn hơn phần trăm thay đổi của lượng cung thì chúng ta biết rằng cung là:

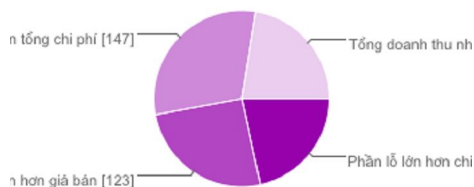


Câu 46. Biện pháp thuế nào áp dụng đối với doanh nghiệp độc quyền sẽ gây thiệt hại cho người tiêu dùng:



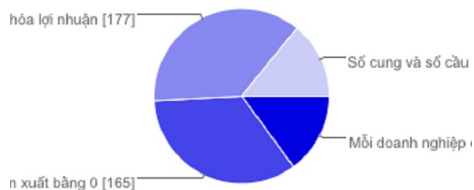
Câu 47. Chọn câu SAI trong các câu dưới đây: Trong ngắn hạn doanh nghiệp nhất thiết phải đóng cửa khi:





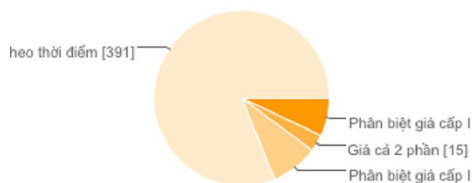
Chi phí biến đổi trung bình tối thiểu lớn hơn giá bán	123	26%
Tổng doanh thu nhỏ hơn tổng chi phí	147	30%
Tổng doanh thu nhỏ hơn tổng chi phí biến đổi	108	22%

Câu 48. Điều gì dưới đây không phải là điều kiện cho tình trạng cân bằng dài hạn của doanh nghiệp cạnh tranh hoàn toàn



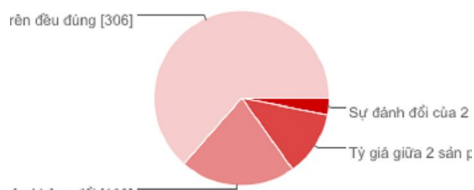
Mỗi doanh nghiệp có lợi nhuận kinh tế bằng 0	72	15%
Thặng dư sản xuất bằng 0	165	34%
Tất cả các doanh nghiệp trong ngành ở trạng thái tối đa hóa lợi nhuận	177	37%
Số cung và số cầu thị trường bằng nhau.	68	14%

Câu 49. Giá vé ở một nhà hàng Karaoke là 40,000 đồng/giờ vào ban ngày; từ 18g00 trở đi giá vé là 60,000 đồng/giờ. Đây là thí dụ cụ thể về:



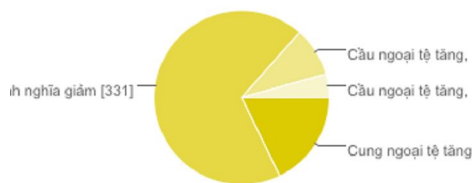
Phân biệt giá cấp II	34	7%
Giá cả 2 phần	15	3%
Phân biệt giá cấp I	42	9%
Phân biệt giá theo thời điểm	391	81%

Câu 50. Độ dốc của đường ngân sách (đường giới hạn tiêu dùng) thể hiện:



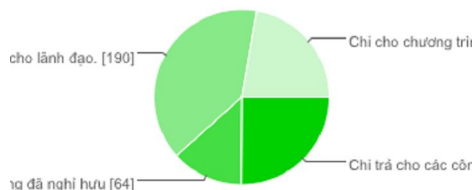
Sự đánh đổi của 2 sản phẩm trên thị trường		
Tỷ giá giữa 2 sản phẩm		
Khi mua thêm một đơn vị sản phẩm này cần phải giảm bớt số lượng mua sản phẩm kia với thu nhập không đổi		
Các câu trên đều đúng		

Câu 51. Người nước ngoài đến Việt Nam du lịch tăng, các yếu tố khác không đổi sẽ làm cho:



Cung ngoại tệ tăng tỷ giá hối đoái danh nghĩa tăng.	86	18%
Cung ngoại tệ tăng, tỷ giá hối đoái danh nghĩa giảm	331	69%
Cầu ngoại tệ tăng, tỷ giá hối đoái danh nghĩa tăng.	44	9%
Cầu ngoại tệ tăng, tỷ giá hối đoái danh nghĩa giảm	21	4%

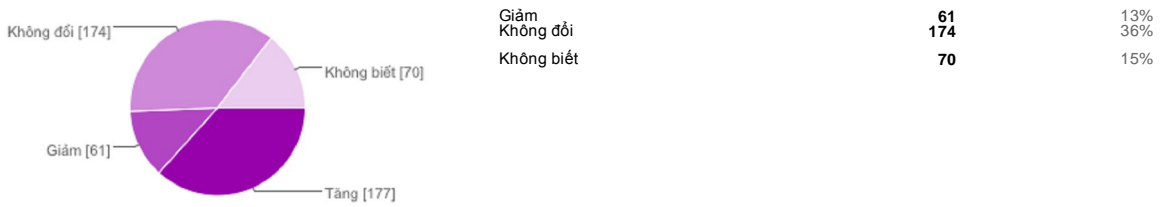
Câu 52. Loại tiêu dùng nào sau đây của chính phủ sẽ được tính vào chi tiêu của chính phủ khi tính GDP ở Việt Nam:



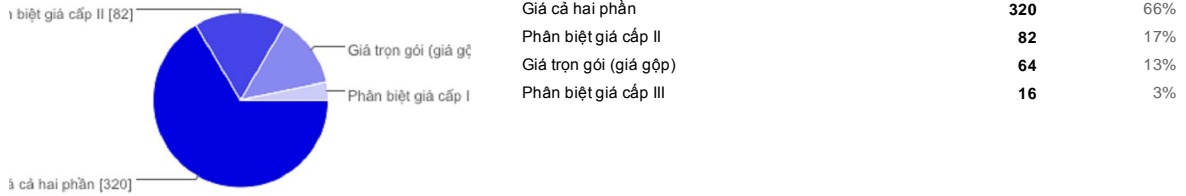
Chi trả cho các công trình nghiên cứu khoa học	121	25%
Chi trả lương hưu cho những người lao động đã nghỉ hưu	64	13%
Chi mua sắm ôtô cho lãnh đạo.	190	39%
Chi cho chương trình xóa mù chữ, tiêm chủng vắc xin	107	22%

Câu 53. Nền kinh tế cân bằng tại mức sản lượng là 1.000. Chính phủ tăng mức chi tiêu thêm 300, đồng thời chính phủ cũng tăng thuế thêm 300. Sản lượng cân bằng mới của nền kinh tế sẽ:

Tăng	177	37%
------	-----	-----



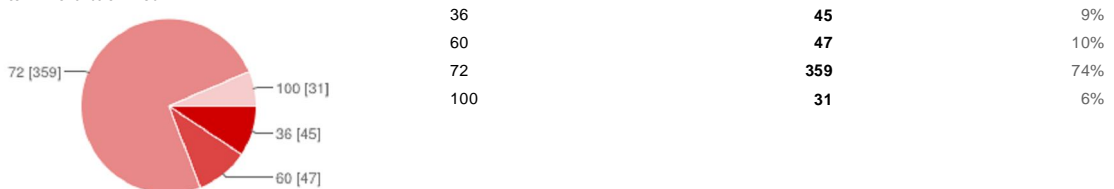
Câu 54. Nếu công ty điện thoại buộc khách hàng trả tiền cước thuê bao hàng tháng và sau đó sẽ phải trả thêm chi phí cho mỗi cuộc gọi, thì công ty đã áp dụng chính sách:




Câu 55. Câu hỏi tư duy logic: Một nhóm 12 sinh viên đang coi chung kết bóng đá, một nửa trong số họ là cổ động viên đội A, một phần ba trong số họ là cổ động viên đội B, một phần tư trong số họ vừa là cổ động viên đội A vừa là cổ động viên đội B, vậy hỏi có bao nhiêu người không là cổ động viên của cả đội A và B



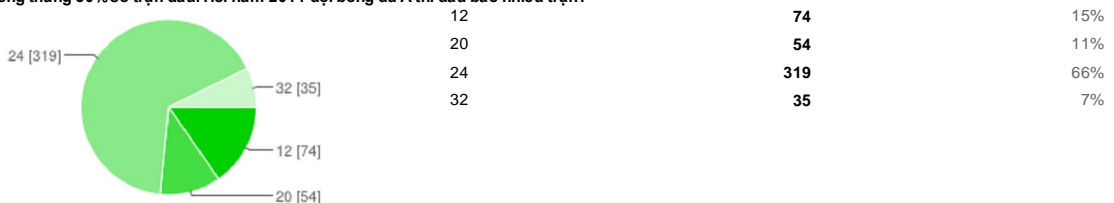
Câu 56. Một đề thi Chinh phục Vàng năm ngoái có 200 câu hỏi thời gian làm bài 3 tiếng, Trong số các câu hỏi này, có 50 câu Kinh tế vi mô, Thầy giáo ra đề ước tính rằng thời gian để giải 1 câu Kinh tế vi mô lâu gấp hai lần thời gian để giải một câu lĩnh vực khác, Thầy giáo ước tính tổng thời gian để giải hết các câu Kinh tế vi mô là bao nhiêu



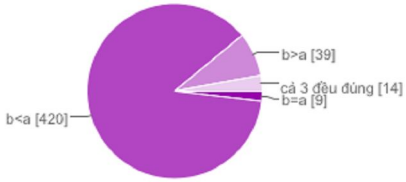
Câu 57. Một hộp sữa Cô gái Hà Lan đủ để rót đầy 5 ly nhỏ bằng nhau và đủ để rót đầy 3 ly land bằng nhau, Một ly lớn đầy sữa đủ rót đầy bao nhiêu ly nhỏ?



Câu 58. Năm 2010 đội bóng đá A thi đấu 60 trận và thắng 30% số trận. Trong năm 2011 đội bóng đá A này thi đấu toàn thắng. Tính cả 02 năm 2010 và 2011 thì đội bóng thắng 50% số trận đấu. Hỏi năm 2011 đội bóng đá A thi đấu bao nhiêu trận?

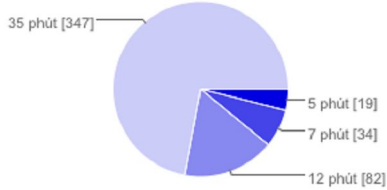


Câu 59. Nếu a và b là 02 số nguyên dương và $(a-b)/3.5 = 4/7$, Vậy:



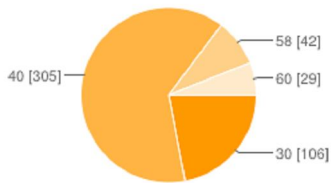
b=a	9	2%
b<a	420	87%
b>a	39	8%
cả 3 đều đúng	14	3%

Câu 60. Một bánh xe cứ 7 phút lại quay một vòng, một bánh xe khác cứ 5 phút lại quay một vòng, cứ sau bao nhiêu phút thì cả 2 bánh xe này quay cùng 1 lúc:



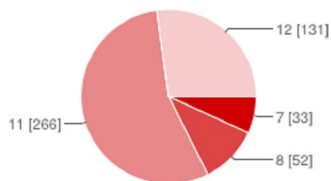
5 phút	19	4%
7 phút	34	7%
12 phút	82	17%
35 phút	347	72%

Câu 61. Một đoàn tàu lửa chờ hàng rời ga A được 02 giờ thì đoàn tàu lửa chờ khách cũng rời ga và chạy 60km/giờ, sau 04 giờ thì đoàn tàu chờ khách vượt đoàn tàu chờ hàng, Hỏi đoàn tàu chờ hàng di chuyển với vận tốc là bao nhiêu (được tính bằng km/giờ)



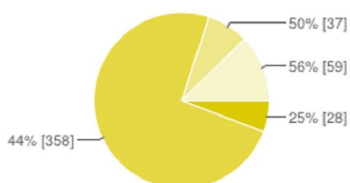
30	106	22%
40	305	63%
58	42	9%
60	29	6%

Câu 62. Công ty Đồ Sơn nhận hợp đồng sơn ba ngôi biệt thự tại Đào Duy Anh – Quận Phú Nhuận giống hệt nhau. Anh Long mất 6 ngày để sơn xong một ngôi biệt thự, trong khi anh Trường mất 8 ngày và anh Đức mất 12 ngày. Sau 8 ngày sơn nhà, anh Long nghỉ ốm và anh Trường sơn tiếp trong vòng 6 ngày. Sau đó, công việc được giao cho anh Đức. Anh Đức phải mất bao nhiêu ngày để hoàn thành hợp đồng?



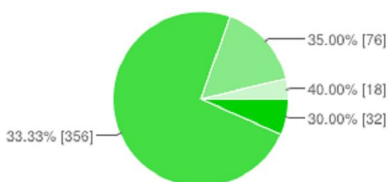
7	33	7%
8	52	11%
11	266	55%
12	131	27%

Câu 63. Vì lượng khách mua hàng đến ít, một cửa hàng tuyên bố giảm giá tất cả các mặt hàng đi 20%. Sau đó cửa hàng lại tuyên bố giảm giá lần thứ hai đi 30% so với giá đã giảm lần thứ nhất. Mức giảm của hai lần tương đương với mức giảm một lần là:



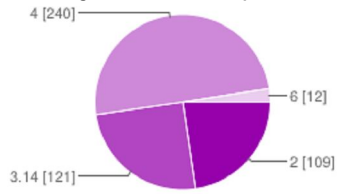
25%	28	6%
44%	358	74%
50%	37	8%
56%	59	12%

Câu 64. Chính phục Vàng năm 2011 có 30% số thí sinh là nam. Chính phục Vàng năm 2012 với qui mô bằng nửa Chính phục vàng 2011, có 40% số thí sinh là nam. Có bao nhiêu phần trăm thí sinh cả hai năm 2011 và 2012 là nam?



30.00%	32	7%
33.33%	356	74%
35.00%	76	16%
40.00%	18	4%

Câu 65. Tại tiệm bánh Pizza mới mở ở đường Võ Văn Tần – Q.3, Một công thức làm bánh pizza ghi rõ số lượng mỗi thành phần được sử dụng để làm một cái bánh pizza tròn đường kính 12cm. Nếu Trúc muốn sử dụng công thức này để làm một cái bánh pizza đường kính 24cm với độ dày tương đương cái bánh pizza đường kính 12cm, thì cô ta phải nhân số lượng mỗi thành phần cho hệ số bao nhiêu?



2	109	23%
3.14	121	25%
4	240	50%
6	12	2%

Số phản hồi hàng ngày

